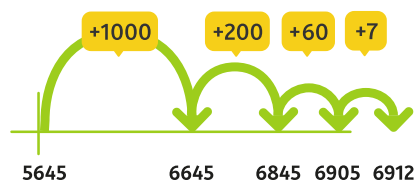


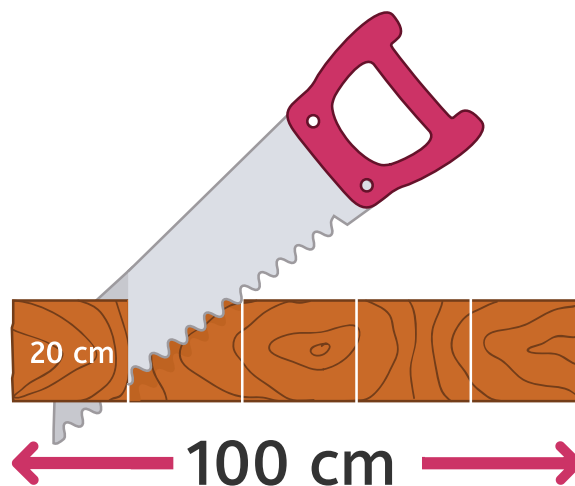


Sommen als $5645 + 267$ en $5645 - 1267$
uitrekenen





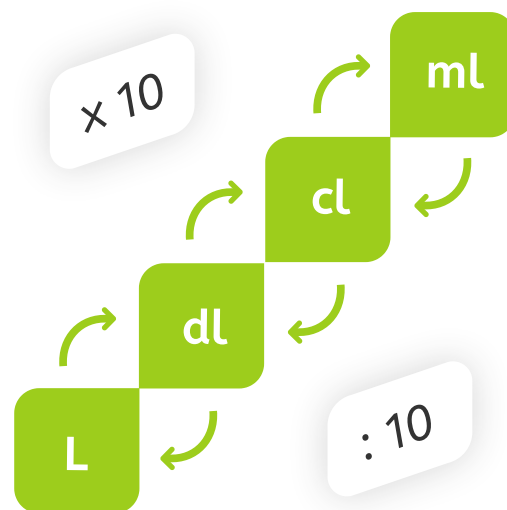
Een deel van een geheel bepalen met een strook of cirkel



Een vijfde deel van een plank van **100 cm** is $100 \text{ cm} : 5 = \mathbf{20 \text{ cm}}$.



Alle litermaten in elkaar omzetten



Hoeveel deciliter is
150 milliliter? $150 : 100 = 1,5$.
Dus $150 \text{ ml} = 1,5 \text{ dl}$.



Een verhoudingstabel afmaken

Manden	1	2	?
Appels	4	?	16

1 mand met 4 appels.

In **2 manden** 2 keer 4 = **8 appels**.

16 appels is 4 keer zoveel als 4
appels, dus **4 manden**.



Cijferend aftrekken

5	13	15
H	T	E
6 2	4 6	5 7
3	7	8

$$645 - 267 = ?$$

5 - 7 kan niet, een tiental inwisselen:

$$15 - 7 = 8, \text{ **8** opschrijven}$$

3 - 6 kan niet, een honderdtal inwisselen:

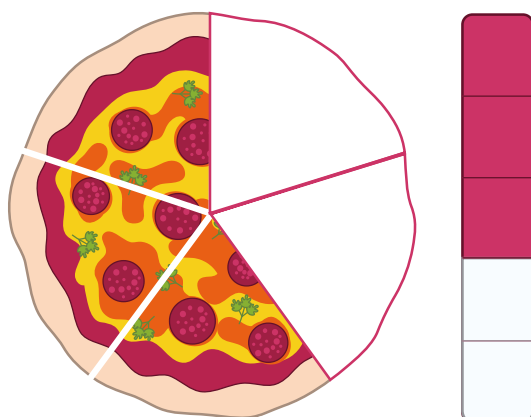
$$13 - 6 = 7, \text{ **7** opschrijven}$$

$$5 - 2 = 3, \text{ **3** opschrijven}$$

Antwoord: **378**.

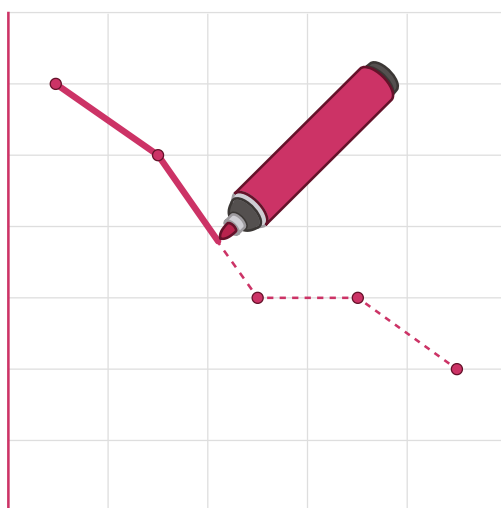


De betekenis van een breuk: $\frac{3}{5}$
betekent 3 van de 5 gelijke stukjes





Een lijngrafiek maken





Schattend optellen en aftrekken tot 1000

$$487 + 211 \approx 700$$

$$902 - 633 \approx 300$$

487 + 211 is ongeveer
500 + 200.



Een som als 6×48 splitsend onder
elkaar uitrekenen

<i>H</i>	<i>T</i>	<i>E</i>	
	4	8	
		6	
			×
2	4	0	
	4	8	
			+
2	8	8	



Verhoudingen vergelijken



De bovenste zakken kosten

€ 6,75 : 3 = € 2,25 per stuk.

De onderste zakken kosten

€ 4,30 : 2 = € 2,15 per stuk.



Kalenders en agenda's aflezen



Welke maand is het?
Welke **datum** is het?